

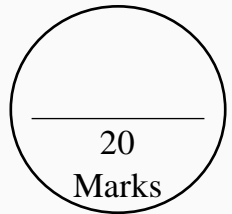


DCEB – VIZIANAGARAM

Self-Evaluation and Learning for Future (SELF)

DAILY TEST - 1

SOCIAL STUDIES – 10th Class



Topics: **India: Relief features, The world between wars (Part-I)**

I. Answer the following questions.

4 x 1 = 4 M

1. Which one of the following countries is not sharing boundary with India?
Pakistan, Afghanistan, China, Bhutan, Nepal, Sri Lanka, Bangladesh, Myanmar.
2. When the time in England is 11:00 P.M., then what is the time in India?
3. What was the immediate cause for World war - II?
4. Write the names of the group “Allied powers”.

II. Answer the following questions.

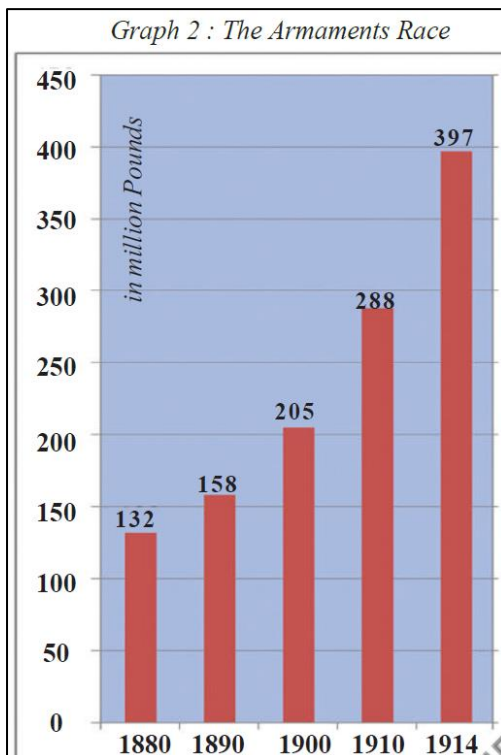
2 x 2 = 4 M

5. Why do we call India as Peninsular?
6. What were the important points in “Treaty of Versailles”?

III. Answer the following question.

1 x 4 = 4 M

7. Read the following bar graph and answer the below questions.



i. What is meant by Armament Race?

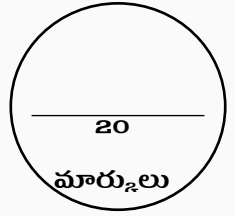
ii. In which year the first world war started?

IV. Answer the following question.

1 x 8 = 8 M

8. Write about the location of Himalayas and describe the parallel ranges in it.





పాఠాలు: భారతదేశం:భౌగోళిక స్వరూపాలు, ప్రపంచయుద్ధాల మధ్య ప్రపంచం (భాగం-1)

I. క్రింది ప్రశ్నలకు సమాధానాలు వ్రాయండి.

4 x 1 = 4 మా.

- క్రింది వానిలో భారతదేశంతో భూ సరిహద్దును పంచుకోని దేశాన్ని వ్రాయండి.
పాకిస్తాన్, ఆఫ్ఘనిస్తాన్, చైనా, భూటాన్, నేపాల్, శ్రీలంక, బంగ్లాదేశ్, మయన్మార్
- ఇంగ్లాండ్ లో సమయం రాత్రి 11 గంటలు ఐతే, భారతదేశంలో సమయం ఎంత?
- రెండవ ప్రపంచ యుద్ధానికి గల తక్షణ కారణం ఏమిటి?
- మిత్రరాజ్యకూటమి లో గల దేశాల పేర్లు వ్రాయండి.

II. క్రింది ప్రశ్నలకు సమాధానాలు వ్రాయండి.

2 x 2 = 4 మా.

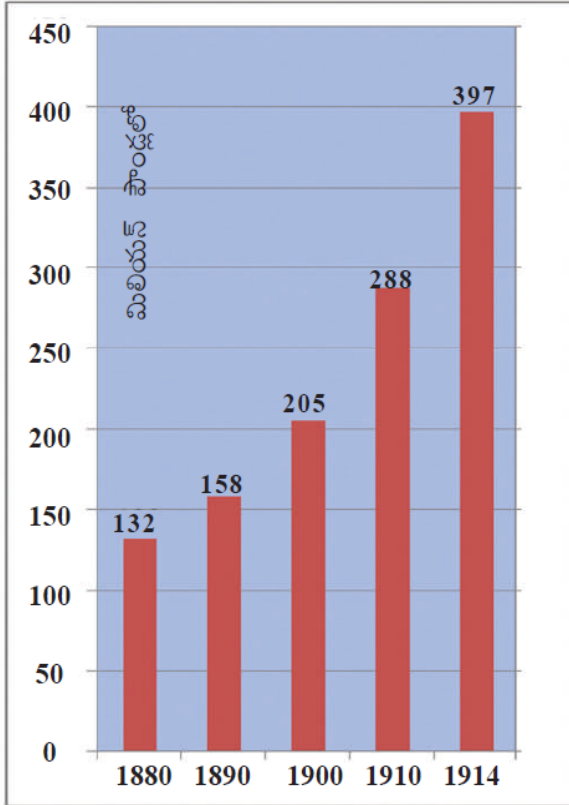
- భారతదేశాన్ని ద్వీపకల్పం అని ఎందుకు పిలుస్తారు?
- వర్షయిల్ప ఒప్పందం లో గల అంశాలు ఏవి?

III. క్రింది ప్రశ్నల సమాధానం వ్రాయండి.

1 x 4 = 4 మా.

7. దిగువ బార్ గ్రాఫ్ ను చదివి క్రింది ప్రశ్నలకు సమాధానాలు రాయండి.

గ్రాఫ్ : 2 ఆయుధ పోటీ



i. ఆయుధపోటీ అంటే ఏమిటి?

ii. మొదటి ప్రపంచయుద్ధం ఏ సంవత్సరంలో ప్రారంభమైంది?

IV. క్రింది ప్రశ్నకు సమాధానం వ్రాయండి.

1 x 8 = 8 మా.

8. హిమాలయాల ఉనికిని పేర్కొని, అందలి సమాంతర శ్రేణుల గురించి వివరించండి.

